

Бланк заданий

История, 7 класс

1. Укажите название морей, по которым совершил путешествие тверской купец Афанасий Никитин в 1468—1474 годах? (1 балл за каждый правильный ответ, всего – 3 балла)

- А) Каспийское
- Б) Азовское
- В) Индийское
- Г) Черное
- Д) Балтийское

Ответ: _____

2. Укажите местность, до которой распространялись обширные северные территории Новгорода Великого к середине XV века (1 балл за правильный ответ)

- А) Псков
- Б) Югра
- В) Вятская земля
- Г) Пермская земля

Ответ: _____

3. Укажите международные договора, заключенные Россией во второй половине XVI века (2 балла за правильный ответ)

- А) Плюсское перемирие со Швецией, Ништадский мирный договор со Швецией
- Б) Вечный мир с Речью Посполитой, Ям-Запольский мир с Речью Посполитой
- В) Ям-Запольский мир с Речью Посполитой, Плюсское перемирие со Швецией
- Г) Столбовский мирный договор со Швецией, Бахчисарайский мирный договор с Турцией и Крымским ханством

Ответ: _____

4. Прочитайте документ и ответьте на вопросы (1 балл за каждый правильный ответ, всего – 6 баллов)

«Письмо твое принято и прочитано внимательно. Яд аспиды у тебя под языком, и письмо твое наполнено медом слов, но в нем горечь полыни. Так ли привык ты, христианин, служить христианскому государю? Ты пишешь вначале, чтобы разумевал тот, кто обретается противным православию и совесть прокаженную имеет. Подобно бесам, от юности моей вы поколебали благочестие и богом данную мне державную власть себе похитили».

1. Назовите автора документа? (1 балл)
2. Под каким названием известны документы, фрагмент которых представлен? (1 балл)
3. Где в момент создания данного документа находится адресат? (1 балл)
4. На кого автор письма указывает местоимением «вы»? (2 балла)
5. Какую власть считает единственно верной автор письма? (1 балл)

Ответ:

1. _____
2. _____
3. _____

4. _____

5. _____

5. Определите хронологический порядок событий Смутного времени (3 балла за полностью верный ряд)

- А) Договор со Швецией
- Б) Восстание Хлопка
- В) Взятие Швецией Новгорода
- Г) Занятие польскими войсками Москвы
- Д) Восстание И. Болотникова

Ответ: _____

6. Определите хронологический порядок внешнеполитических событий России XVII века (3 балла за полностью верный ряд)

- А) Взятие Азова казаками
- Б) Русско-турецкая война
- В) Столбовский мирный договор со Швецией
- Г) Нерчинский договор с Китаем
- Д) Русско-шведская война

Ответ: _____

7. Соотнесите имя исторического деятеля и род его деятельности. Во втором перечне есть лишняя характеристика (за каждое правильное соответствие - 1 балл, всего – 4 балла)

А) Гермоген	1) исследователь Приамурья
Б) Симон Федорович Ушаков	2) полководец.
В) Ерофей Павлович Хабаров	3) литейщик
Г) Андрей Чохов	4) живописец
	5) Патриарх Московский и Всея Руси

Ответ:

А)	Б)	В)	Г)

8. Установите правильное соответствие между понятием и его определением. В первом перечне есть лишняя характеристика (за каждое правильное соответствие - 1 балл, всего – 5 баллов)

А) Погост	Люди, заключившие договор, на выполнение определенной работы
Б) Рядовичи	Народное собрание на Руси.
В) Ушкуй	Точный размер дани.
Г) Урок	Территория, находящаяся во владении отдельных князей.
Д) Вече	Новгородское речное судно. Ладья.
Е) Удел	

Ответ:

А)	Б)	В)	Г)	Д)	Е)





9. Установите правильное соответствие между датой и историческим событием XVIII века. В первом перечне есть лишняя характеристика (за каждое правильное соответствие - 1 балл, всего – 5 баллов)

А) 1204 г.	Захват датскими рыцарями части прибалтийского побережья и основание Ревеля (Таллина)
Б) 1215 г.	Захват ливонцами вместе с датскими и немецкими рыцарями Изборска
В) 1219 г.	Захват крестоносцами Константинополя
Г) 1237 г.	Образован Ливонский орден
Д) 1239 г.	Захват монголами Китая
Е) 1240 г.	

Ответ:

А)	Б)	В)	Г)	Д)	Е)

10. Определите имена изображенных ниже князей. Соотнесите указанных князей XI–XVI веков с городами, которые они основали. Ответ запишите в таблицу (1 балл за каждый верный ответ, всего - 8 баллов)

А) 	Б) 
В) 	Г) 



Ответ:

Буквенное обозначение фотографий	Имя князя	Основанный князем город
А)		
Б)		
В)		
Г)		

11. Установите соответствие между веком и событием. Запишите в таблицу выбранные цифры под соответствующими буквами. Во втором перечне есть лишняя характеристика (1 балл за каждое верное соответствие, всего – 5 баллов)


А) Созыв первого Земского собора в России	1) XII
Б) Использование двуглавого орла на печати Великого князя всея Руси	2) XIII
В) Создание Генеральных штатов во Франции	3) XIV
Г) Основание Москвы	4) XV
Д) Создание английского парламента	5) XVI
	6) XVII

Ответ:

А)	Б)	В)	Г)	Д)

12. Назовите архитектурные сооружения, изображенные на фотографиях. Ответ оформите в виде перечня элементов под соответствующими номерами. В соответствующих строках третьей колонки обозначьте имя правителя, при ком было воздвигнуто архитектурное сооружение. (по 1 баллу за верный элемент ответа, всего- 8 баллов)

А)	Б)
----	----



Ответ:

Буквенное обозначение памятников	Название	Имя правителя, при ком был воздвигнут памятник
А		
Б		
В		
Г		

13. Заполните пробелы в тексте. Ответ оформите в виде перечня элементов под соответствующими номерами (по 1 баллу за каждый верно заполненный пропуск, всего – до 10 баллов)

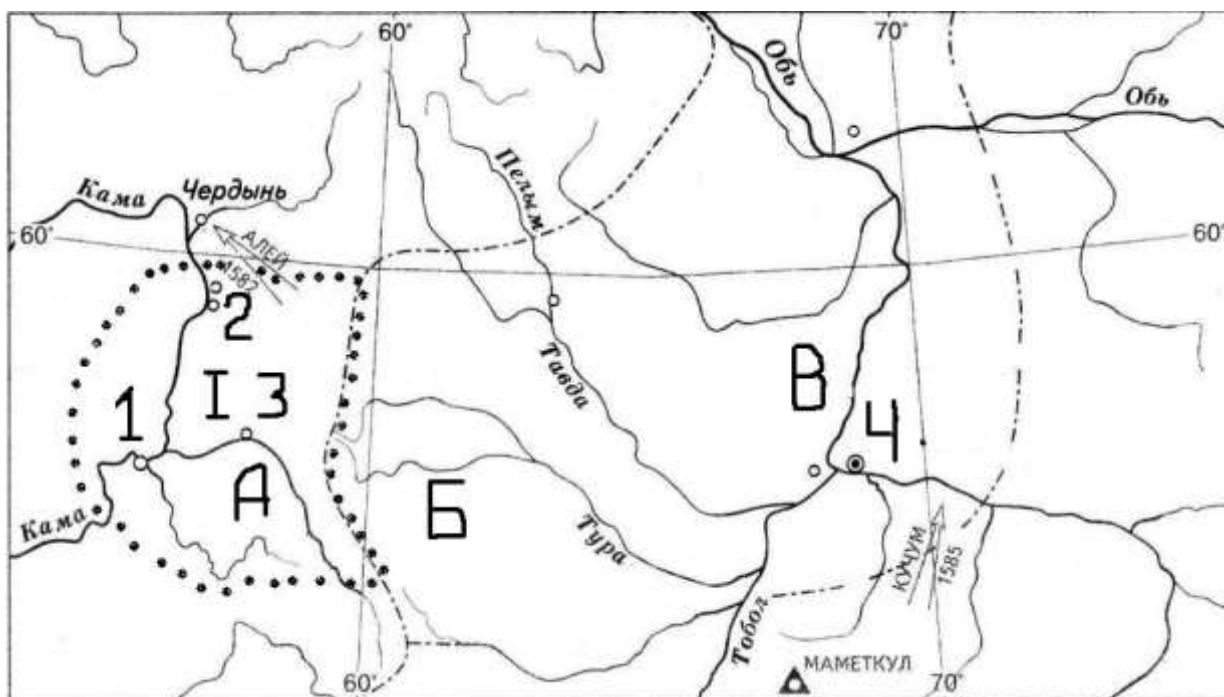
Рюрик умер в (1 – год), оставив малолетнего сына (2 – имя). Все дела в Новгороде взял в свои руки родственник Рюрика (3 – имя). Он собрал большую рать, куда вошли представители всех подвластных Новгороду народов. Был взят главный город кривичей (4 – название города), затем Любеч. Приплыв к берегам Днепра и не рассчитывая взять Киев штурмом, была предпринята военная хитрость. Спрятав воинов в ладьях, он послал к княжившим в крепости (5 – имя) и (6 – имя) весть о том, что с севера приплыл купеческий караван и он просит князей выйти на берег. Ничего не подозревавшие правители пришли на встречу. Воины выскочили из засады, окружили и убили их. Войдя в город, он заявил: «Да будет Киев (7 – родственная связь) городам русских. Так

Новгородский север победил Киевский юг. Возникло единое древнерусское государство с центром в Киеве. Произошло это в (8 – год). Киев находится там, где Днепр, приняв самые большие притоки свои справа и слева, (9 – название реки) и (10 – название реки) поворачивает на восток, в степи - жилище кочевых народов. (С.М. Соловьев)

Ответ:

1	
2	
3	
4	
5	
6	
7	
8	
9	
10	

14. Изучите карту «Поход Ермака в Сибирь» и выполните задания (2 балла за каждый правильно заполненный пропуск, всего – 16 баллов)



14.1. Вспомните, кому принадлежали в XVI в. владения по реке Каме, обозначенные на карте римской цифрой I, внесите название в таблицу.

14.2. Найдите на карте важнейшие населенные пункты, через которые прошел путь Ермака и его сподвижников, обозначенные на карте арабскими цифрами от 1 до 4, внесите в таблицу их названия.

14.3. Впишите в таблицу названия рек, обозначенных на карте заглавными буквами А, Б, В.

Владения по реке Каме в XVI в. принадлежали	I	
Населенные пункты, через которые прошел путь Ермака и его сподвижников	1.	
	2.	
	3.	
	4.	
Реки, не подписанные на карте	A.	

	Б.	
	В.	

15. Что объединяет название произведений, понятия, имена, образующие каждый из представленных смысловых рядов? Дайте краткий ответ (2 балла за каждый полный ответ, 1 балл – за каждый не полный ответ, всего – 8 баллов)

Смысловой ряд:	Ответ:
«Повесть о разорении Рязани Батыем», «Слово о погибели земли русской», «Повесть о Щелкане»	
Казна, Дворец, Боярская дума	
Барма, Постник, Федор Конь	
Томаты, картофель, кукуруза, табак	

16. Выберите несколько верных ответов в каждом задании (1 балла за каждый правильный ответ, всего – 6 баллов)

16.1. Какие события и явления связаны с правлением княгини Ольги?

- 1) визит в Царьград
- 2) ликвидация вечевого строя в Новгороде
- 3) проведение княжеских съездов
- 4) введение общерусской системы сбора дани с подвластных племен
- 5) создание общерусского войска
- 6) введение единой нормы перехода крестьян от одного владельца к другому

16.2. Правители иностранных государств, с которыми породнился Ярослав Мудрый через заключение династических браков:

1. Норвежский король Харальд Смелый
2. Польский королевич Владислав
3. Император Византии Константин Мономах
4. Половецкий хан Кончак
5. Английская королева Елизавета I

16.3. Выберите из предложенного перечня события, относящиеся к XIV в.:

- 1) создание «Правды» Ярославичей
- 2) съезд князей в Любече
- 3) основание Троице-Сергиева монастыря
- 4) заключение первого письменного договора с Византией
- 5) создание Нестором «Повести временных лет»
- 6) строительство белокаменного Кремля в Москве

Ответ:

16.1.	16.2.	16.3.

17. Соотнесите высказывание с обстоятельствами, при которых они были произнесены. Во втором перечне есть лишняя характеристика (1 балл за каждое верное соответствие, всего – 5 баллов)

А) «И умом не дошел, и нам будет поваден»	1) М.Лютер во время суда в Вормсе
Б) «Разбита и развеяна по всем румбам»	2) Бояре по поводу избрания на царский престол Михаила Романова
В) «На этом я стою. И не могу иначе»	3) Митрополит Кирилл после смерти Александра Невского
Г) «Не понимаю, как мои предки допустили такое учреждение»	4) После убийства Святослава Игоревича печенегами
Д) «Знайте, чада моя, яко уже зашло солнце земли Суздальской. Не будет больше такого князя в Русской земле»	5) Ф.Дрейк после гибели «Непобедимой»
	6) Яков I Стюарт после роспуска парламента

Ответ:

А)	Б)	В)	Г)	Д)

18. Выбрать один из вариантов ответа

Во время Великой Отечественной войны в 1942 г. был учреждён советский орден, которым награждались командиры от взводов до дивизий включительно, проявившие личную отвагу и обеспечившие успешные действия своих частей. До конца войны этим орденом было награждено 40 217 офицеров Советской Армии. Именем какого русского князя назван этот орден? (2 балла за правильный ответ)

- А) Владимира Мономаха
- Б) Юрия Долгорукого
- В) Александра Невского
- Г) Дмитрия Донского

Ответ: _____