

Максимальный балл – 15

Инструкция по выполнению работы

Внимательно прочитайте каждое задание.
Ответ записывайте разборчиво.
Примечание. Не разрешается пользоваться школьными атласами и другими источниками информации.

ЗАДАНИЯ ТЕСТОВОГО ТУРА

1. Какой из указанных языков не родственен остальным трем?

- а) Азербайджанский.
- б) Турецкий.
- в) Армянский.
- г) Татарский.

Ответ: в 0,5

Критерии оценивания. За правильный ответ - 0,5 баллов

2. Особенности территориальной организации промышленности Японии является ее концентрация на восточном побережье острова Хонсю. Чем объяснить причины такого размещения?

- а) Более густым расселением населения в этом районе.
- б) Стремлением разместить промышленность в безопасном в случае военных конфликтов месте.
- в) Наличием обширных равнинных площадей для строительства.
- г) Сочетанием удобных бухт, массивов сельскохозяйственных земель, высокой плотностью населения и ориентации на важнейшие морские пути.
- д) Из-за того, что здесь находится наиболее значительные гидроэнергетические ресурсы пресной воды, регион менее подвержен землетрясениям и вулканизму.

Ответ: б

Критерии оценивания. За правильный ответ - 0,5 баллов

3. Определите страну мира по следующему описанию

«Эта страна обладает уникальным сочетание природно-ресурсной базы и разнообразием ландшафтов: 60% территории занимают уникальные по своему составу, разрывы и сохранности леса, от состояния которых зависит климат всей Земли. Стране принадлежит первое место или одно из первых мест по запасам многих полезных ископаемых: железной руды, рутила, ниобия, бериллия, апатитов, бокситов, золота, марганцевой руды и асбеста. Наличие крупных морских портов обеспечивает связи страны со многими государствами мира. Особенности географического положения сказались на особенностях колонизации территории и позже способствовали проникновению иностранного капитала, транснациональных корпораций. Привлечение передовых технологий, инвестиций и капиталов из развитых стран позволили государству добиться успехов в создании современного производства. Сельское хозяйство характеризуется подпартизанной средств производства, в первую очередь, земли. Исторически здесь сложился институт крупной земельной собственности, широко распространено мелкое землевладение (основа крестьянских хозяйств). Страна является федеративной республикой, что отражено на гербе и флаге данной страны»

- а) Канада: М
- б) Бразилия: Р
- в) Австралия: М
- г) Индонезия: Р
- д) Россия: Р
- е) Китай: Р
- ж) США: Р

Ответ: б

Задание 11 класс

Критерии оценивания. За правильный ответ - 0,5 баллов

4. Какие отрасли позволяют стране включаться в международное разделение труда?

- а) Отрасли «большой тройки» (машиностроение, энергетика, химическая промышленность).
- б) Отрасли добывающей промышленности.
- в) Отрасли международной специализации.
- г) Отрасли, продукция которых быстро расходуется среди потребителей.

Ответ: б 0,5

Критерии оценивания. За правильный ответ - 0,5 баллов

5. Укажите остров, на котором находится территория двух государств:

- а) Малагакар
- б) Калимантан
- в) Пуэрто-Рико
- г) Исландия
- д) Ирландия

Ответ: б

Критерии оценивания. За правильный ответ - 0,5 баллов

6. В какой из стран столица не является крупнейшим городом своей страны?

- а) Турция
- б) Испания
- в) Австралия
- г) Швеция
- д) Индонезия

Ответ: д 0,5

Критерии оценивания. За правильный ответ - 0,5 баллов.

7. Какая из перечисленных стран является федеративной монархией, в главе которой находится «верховный правитель» – султан одного из княжеств, входящих в федерацию?

- а) Великобритания - федеративная монархия
- б) Объединенные Арабские Эмираты
- в) Таиланд - королевство
- г) Бельгия - королевство
- д) Малайзия

Ответ: а 0,5

Критерии оценивания. За правильный ответ - 0,5 баллов

8. В результате какого из перечисленных процессов отчуждается больше всего земель в развитых странах?

- а) Нарушение плодородия в результате истощения земель.
- б) Отделение земель под дороги, промышленную и городскую застройку.
- в) Отделение земель под лесные посадки, парки.
- г) Забодачивание земель.
- д) Отделение земель под объекты военно-промышленного комплекса.

Ответ: б 0,5

Критерии оценивания. За правильный ответ - 0,5 баллов

9. Какую часть от всего населения Российской Федерации составляют жители двух крупнейших городов, вместе взятые (без пригородов):

- а) 1%;

Задание 11 класс

- б) 5%;
в) 7,6%;
г) 12%;
д) 20%;
е) 28,5%;
ж) 35,9%

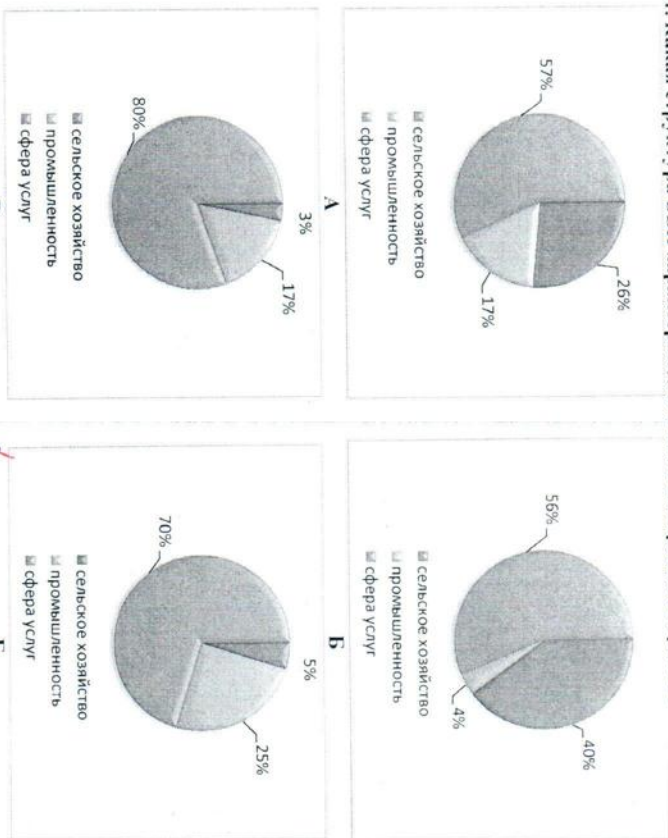
Ответ: 2
Критерии оценивания. За правильный ответ - 0,5 баллов

10. Просмотрев предположенный список стран, догадаетесь, почему они объединены в одну группу (по географическому положению) и после этого найдите единственную страну, включенную в эту группу ошибочно?

- а) Португалия
б) Испания
в) Италия
г) Турция
д) Израиль
е) Франция
ж) Греция
з) Сирия

Ответ: з)
Критерии оценивания. За правильный ответ - 0,5 баллов

11. Какая структура ВВП характерна для Союза Коморских Островов?



Ответ: з)

Критерии оценивания. За правильный ответ - 0,5 баллов

Задания 11 класс

12. Для какого из перечисленных регионов характерны неравномерность размещения населения, крупные одиночные города и небольшое количество агломераций тяготеют к прибрежным регионам?

- а) Западная Европа;
б) Северная Америка;
в) Восточная Азия;
г) Африка;
д) Восточная Европа.

Ответ: в)
Критерии оценивания. За правильный ответ - 0,5 баллов

13. Название этой реки в переводе с нескольких древних языков звучит, как ни странно, одинаково - «белая река» или просто «река». Поток воды в ней неустойчивый и очень слабый, за исключением верховьев реки, имеющих более сильное течение, где построено несколько ГЭС. Река осталась в истории как место встречи двух армий в конце второй мировой войны. Эта река со времен Средневековья имеет рукотворные каналы, служащие для выхода в море. Они были построены еще в конце XVII в. и считаются самыми старыми в Европе. Парадокс, но на реке расположено один из крупнейших портов, который находится в 110 км от моря. В этом городе можно даже увидеть морской прилив и отлив, очень редко - задержавшихся сюда китов. Назовите этот город.

Ответ: Санкт-Петербург
Критерии оценивания. За правильный ответ - 0,5 баллов

14. Какие две тенденции в размещении черной металлургии оказывают все большее влияние на ее географию?

- а) Тяготение к потребителю;
б) Перемещение к грузопотокам угля и железной руды;
в) По примеру Китая, предприятия строят в сельской местности;
г) Все больше металлургических предприятий строят в развивающихся странах;
д) Все больше металлургических предприятий строят в развивающихся странах.


Ответ: а) б)
Критерии оценивания. За правильный ответ - 0,5 баллов. Всего 1 балл

15. Укажите два правильных соответствия между субъектами Российской Федерации и странами-соседями, с которыми они граничат.

- а) Мурманская область – Финляндия, Норвегия и Швеция; -
б) Ленинградская область – Эстония, Финляндия и Латвия; -
в) Псковская область – Латвия, Эстония и Белоруссия; -
г) Калининградская область – Польша, Литва и Белоруссия; -
д) Смоленская область – Белоруссия, Украина и Литва;
е) Республика Северная Осетия – Грузия, Южная Осетия и Азербайджан; -
ж) Республика Алтай – Казахстан, Китай и Монголия; +

Ответ: а) ж)
Критерии оценивания. За правильный ответ - 0,5 баллов. Всего 1 балл

16. Государственный герб этой страны представляет собой жемчужный шип, в верхней части которого находится эмблема, которая некогда была одним из алхимических символов фосфора. Фосфориты до недавнего времени составляли основу экономики страны. В левом нижнем углу герба – птица фрегат, сидящий на шесте над волнами. В правом



Ответ: Страна Норд Осетия
Желтый полоса на флаге означает
Крестерти оценивания. За правильный ответ - 0,5 баллов. Всего 1 балл

нижен – ветка цветков каллофиллум. Шити окружен веревками из пальмовых листьев и перьями фрегата. 12-конечная звезда над шитом взята с флага и означающая количество племен, живших в стране. Лента внизу несет национальный девиз страны: «Прежде всего божья воля». Страна является самым маленьким государством за пределом Европы. До 1968 года была совместным владением трех стран: Австралии, Новой Зеландии и Великобритании. На государственном флаге на голубом фоне расположена 12-конечная звезда, лежащая под узкой желтой полосой. Эта полоса характеризует географическое положение страны. Назовите страну.

17. Прочитайте описание. Как называется река, о которой идет речь? Какой стране принадлежит устье этой реки?

Эта река носит религиозное название. Она является пограничной рекой, вытекает из озера и заканчивается эстуарием. На ней часто бывают морские приливы. Русло реки так широко и объемно (от 80 до 130 км), что его называют озером тысячи островов. Здесь многоводная река пересекает участки высоко возвышающегося над уровнем моря кристаллического щита. За тысячелетия твердые породы, обоченные древними ледниками и быстрой водой, образовали здесь мелкохолмистую поверхность, а речной поток, заполнив низины, превратил холмы в живописный архипелаг лесных островов, островков и островков, покрытых густыми лесами и порой совершенно «кляксы». По ривинию подсчетам, в русле реки находятся от 1500 до 1800 островов.

Ответ: Река Амур
Страна Россия
За правильный ответ - 0,5 балла. Всего 1 балл



18. О какой природной зоне идет речь? Назовите столицу государства, которой принадлежит крупнейший остров, соответствующий этому описанию.

Белый мех на скале, а в расщелине – лед,
Стирый снег зажегся, не таят,
Лыкий камень везе черной мажской есицей,
Да ползок по чужелью спускает.
А по скалкам кругом все-то птицы во мле,
Взявнече сверху на них, бодо мавр на скале,
Слово луча лежит над волнами,
Словно в камне цветущи
Крестерти оценивания. За правильный ответ - 0,5 баллов. Всего 1 балл

19. Определите страну мира и второй по численности населения ее город по следующему описанию:

Задания 11 класс

«Эта страна имеет высокую плотность населения, хотя по его численности входит в число первых 10 стран мира. В стране есть только один город с численностью населения более 10 млн. человек, он и является ее столицей. Во втором по численности населения городе (бывшей столице) проживает почти вдовольну меньше населения. Страна многонациональна, верующие население исповедует в основном христианство, ислам и буддизм. В последнее время выросла трудовая иммиграция из соседних стран».
Ответ: Страна Вьетнам
Второй город Хо-хе-Минь
Крестерти оценивания. За правильный ответ - 0,5 баллов. Всего 1 балл



Города: Саккард, Ханты-Мансийск, Омск, Томск, Новосибирск, Бармулы. Учтите, что в списке два длинных города.
Река Обь 0,5
За правильный ответ - 0,5 баллов. Всего 2,5 балла

Г - 2,5
1 - 4
3 - 0,5
4 - 4,5
8 - 6
Корсаков
Сарепинский К.В. Бармулы

Задания 11 класс

Максимальный балл – 35

Учащиеся работают без карт, без географических атласов, без справочников

ЗАДАНИЯ ТЕОРЕТИЧЕСКОГО ТУРА

45.

Задание 1. Вставьте пропущенные слова в данный текст описания одной из стран мира.

На западе омывается Тихим океаном ^{0,5}, на востоке – Атлантическим. Вдоль всей страны с севера на юг тянутся два горных хребта. На юге центральной части страны протягивается хребет, представляющая собой один из наиболее крупных вулканических поясов на Земле. Самой высокой вершиной страны является гора Альвердильяко высотой более 5600 м. Климат большей части территории – степи, на севере – лесостепи.

На севере граничит с США ^{0,5} (длина границы более 3 тыс. км), часть границы проходит по извилистой реке Техас. На юге страна граничит с Югудуревом (871 км) и Бенуан ^{0,5} (251 км).

Мексика ^{0,5} – индустриально-аграрная страна. В обрабатывающей промышленности наиболее развиты чёрная и цветная металлургия, машиностроение, химическая и нефтехимическая, хлопчатобумажная, пищевая промышленность. Страна является одним из крупнейших мировых экспортеров механи ^{0,5} (11 место в мире), которую она экспортирует на север. В сельском хозяйстве преобладает растениеводство, главной зерновой культурой является пшеница, выращивается также соя, рис, бобы, хлопчатник, кофе, фрукты, помидоры. Имеются лесозаготовки.

Страна является одной из самых посещаемых в мире: ежегодно сюда приезжают более 20 млн. туристов. На побережье находится Калифорнийский полуостров, который является одним из старейших и наиболее известных морских курортов страны. Полуостров Юкатан ^{0,5} также привлекает туристов.

По форме правления страна является республикой ^{0,5}, в которой проживает более 100 млн. человек. Столицей страны является город Мехико ^{0,5}. В пределах столичной агломерации проживают 20 млн. человек (2015 г.), это 12 по величине агломерация в мире.

Критерии оценивания. За каждый ответ – по 0,5 баллов. Итого 8 баллов.

Задание 2.

Страна X имеет общие границы с несколькими другими. Определите X, основываясь на следующих сведениях о соседях (их названия впишите в правую колонку таблицы) и количестве официальных (государственных) языков, принятых у них. С какой страной X имеет самую длинную признанную мировым сообществом государственную границу?

Муниципальный этап всероссийской олимпиады школьников по географии
Ханты-Мансийский автономный округ – Югра
2017-2018 учебный год
11 класс

Номер соседа	Количество языков		Страны-соседи
Лихтенштейн Австрия	№1 1	4	Один из языков – ретороманский Швейцария
Италия Андорра	№2 3	1	Язык является официальным у соседа №1 Италия
Испания Бельгия	№3 1	3	Один из языков – каталанский Андорра
Германия Люксембург	№4 3	1	Язык является официальным у соседа №3 Испания
Франция Монако	№5 1	3	Язык является официальным у соседа №8 Бельгия
Франция Суринам	№6 1	1	Язык является официальным у соседа №5 Германия
Франция Бразилия	№7 1	3	Язык является официальным у страны №6 Люксембург
Франция Франция	№8 1	1	Язык является официальным у страны №7 Монако
Франция Франция	№9 1	1	Язык является официальным у страны №5 Суринам
Франция Франция	№10 1	1	Язык не является официальным ни в одной из стран-соседей X Бразилия
Франция Франция	страна X 1	1	Франция

Самая длинная граница страны X со страной Аргентина (а не с соседом №4, как считают некоторые).

Критерии оценивания. За каждый ответ – по 0,5 баллов. Итого 6 баллов.

Задание 3.

Найдите правильный ответ. Объясните, почему все остальные ответы не верны. «Налларбор» - это ветер, проше

	Географический объект	обоснование
1	крупный морской порт в островном городе-государстве, где 77% населения составляет тот же народ, на долю которого в соседней стране приходится более половины населения и имеющей административный центр Путраджайя с резиденцией премьер-министра и правительства	<u>находится в Индонезии</u>
2	мост между шведским городом Мальмё и датской столицей Копенгагеном, построенным через Датский пролив	<u>должно быть какое-либо скандинавское название, но не Налларбор.</u>
3	название местного ветра, известного из стихотворения и песни Д.В. Давыдова «Славное море - священный Байкал, Славный корабль - омулёвая бочка. Эй, налларбор, пошевеливай вал, Молодцу плыть недалечко».	<u>верный ответ</u>
4	английская деревня на побережье полуострова Бретань	<u>Бретань - французский полуостров во Францию реки устье находится на последнем острове Бретань. Село Налларбор не является французским</u>

5	долина, представляющая значительную площадь (более 200 тыс. км ²) плоской, практически лишённой деревьев пустынной или полупустынной местности в стране, которую японцы могут назвать «это наша Канада»	Хоккайдо
6	город, в котором находится крупный российский нефтехимический комбинат, расположенный на месте впадения в Иртыш его правого притока – реки Тобол	Тобольск
7	прибор для определения относительной высоты местности	хорашетр
8	небольшой город, названный в честь корабля Первой русской кругосветной экспедиции 1819-1821 гг. (штурман М.П. Лазарев), здесь в январе один день в году Солнце не заходит за горизонт (долгота 93°в.д.)	Воркута

**Критерии оценивания. За правильный ответ и объяснение - 0,5 баллов.
Всего 4 балла.**

Задание 4.

В предложенном тексте в скобках подчеркнуть правильные ответы.

4,55

Красноярский край – субъект РФ в Сибирском федеральном округе; относится к (Восточно-Сибирскому/Западно-Сибирскому) экономическому району. Образован в 1934 г. Административный центр – город Красноярск. Граничит с Якутией, Иркутской областью на востоке, с Тывой и Хакасией на юге, с на западе граничит с Кемеровской, Томской областями, Ханты-Мансийским и Ямало-Ненецким автономными округами. В 1991 г. из состава края вышла (Хакасия/Тыва), ставшая самостоятельной республикой – субъектом РФ. В 2005 г. Таймырский (Долгано-Ненецкий) и Эвенкийский автономные округа были преобразованы в муниципальные районы (с 2015 г. также в статусе особых территорий). До этого момента край имел (анклав/эксклав) на территории другого субъекта РФ – город Норильск с пригородами. Время в Красноярском крае отличается от московского на (4 часа/5 часов). Край является (первым/вторым) по площади субъектом России. Площадь территории – 2 366,8 тыс. км², что составляет 13,9% территории России. На севере он омывается водами двух морей – (Карским/Баренцевым) морем и (Восточно-Сибирским морем/морем Лаптевых).

Всего в Красноярском крае обнаружено более 10 тысяч месторождений и рудопроявлений различных полезных ископаемых. В Красноярском крае сосредоточено большое количество российских запасов угля. Масштабная угледобыча ведётся в Канско-Ачинском (буроугольном/каменноугольном) бассейне, значительные запасы имеет Тунгусский (буроугольный/каменноугольный) бассейн. В крае открыто 25

месторождений нефти и газа. На севере края разрабатывается крупное (Ванкорское/Самотлорское) нефтегазовое месторождение.

Климат края (умеренно/резко) континентальный, характерны сильные колебания температур воздуха в течение года. В связи с большой протяжённостью края в (меридиональном/широтном) направлении климат очень неоднороден. Для центральной части региона, преимущественно (равнинной/горной), характерны короткое (прохладное/жаркое) лето, продолжительная (теплая/холодная) зима, быстрая смена температур. В среднем в год выпадает 316 мм осадков, основная часть – (летом/зимой), в предгорьях Саян выпадает 600-1000 мм.

Красноярский край относится к благополучным по обеспеченности водными ресурсами регионам. Край расположен в бассейне реки (Енисей/Лена). В крае 323 тысячи озер. Крупнейшее из них – озеро (Байкал/Таймыр).

Критерии оценивания. За правильный ответ - 9 баллов.

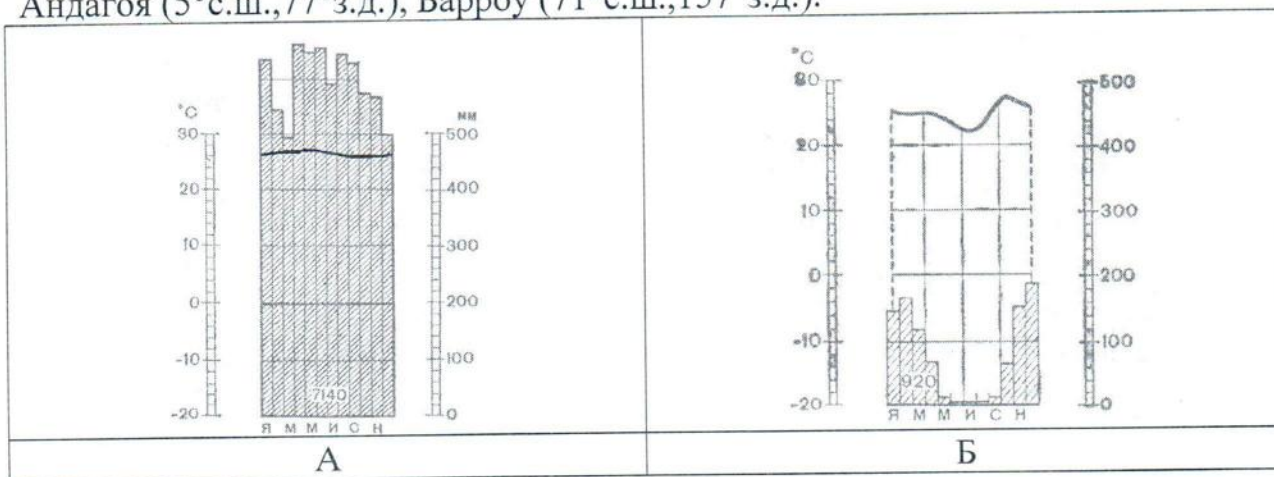
Задание 5.


Установите соответствие между изображенными на рисунке метеостанциями, климатограммами и диаграммами структуры населения стран, в которых находятся эти метеостанции. Заполните таблицу.

Учтите, что две метеостанции лишние

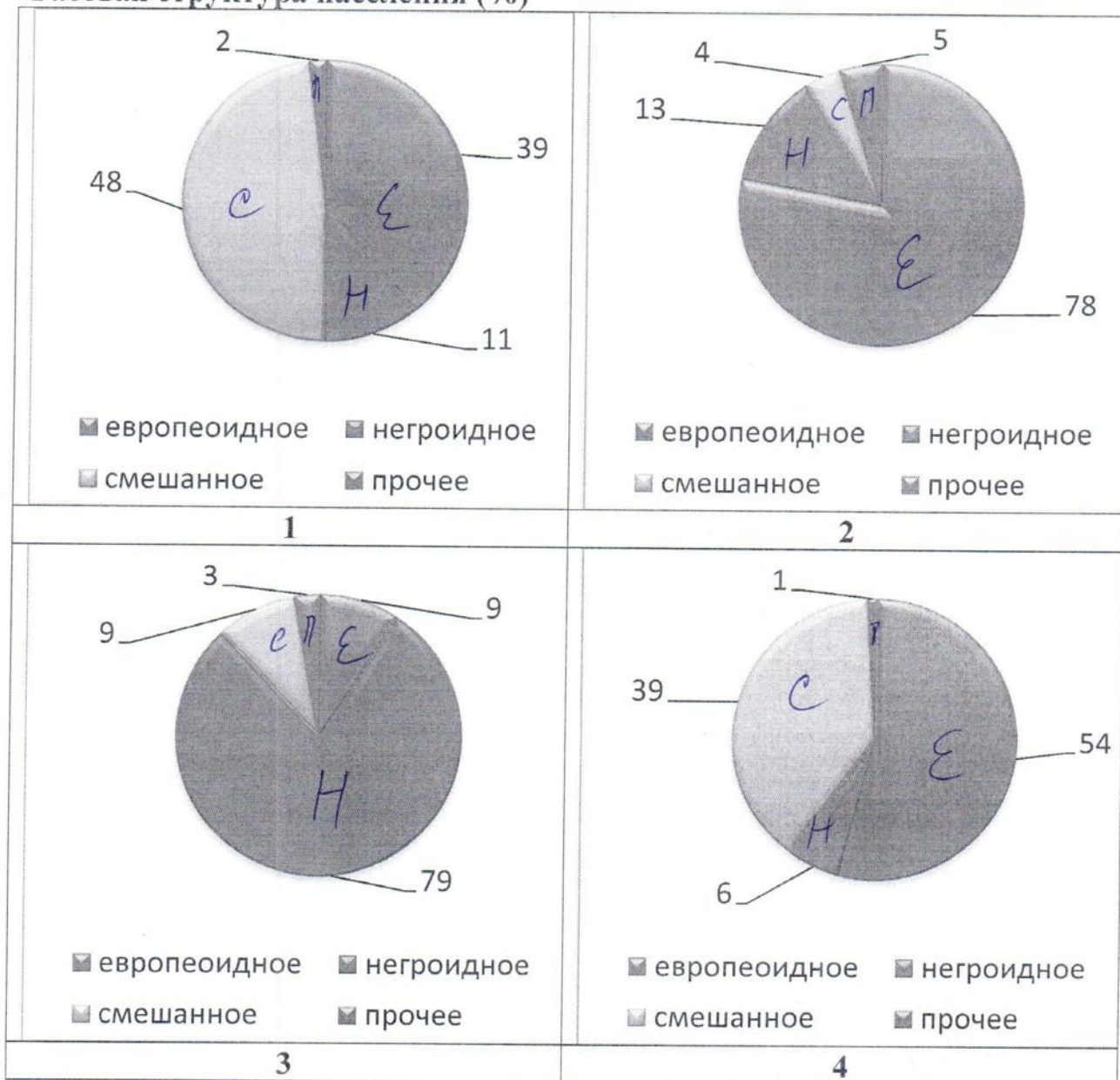
Климато-грамма	Метеостанция	Широта	Долгота	Страна	Номер диаграммы структуры населения
В Г	Финикс	33° сш	112° зз	США	2 + 25
А	Андагоя	5° сш	77° зз	Колумбия	4 - 1
Б	Ибипетуба	11° юш	45° зз	Бразилия	1 - 10
В	Дурбан	30° юш	31° вв	ЮАР	3 + 25

Метеостанции и их координаты: Палермо (38°с.ш.,13°в.д.), Финикс (33°с.ш.,112°з.д.), Ибипетуба (11°ю.ш.,45°з.д.), Дурбан (30°ю.ш.,31°в.д.), Андагоя (5°с.ш.,77°з.д.), Барроу (71°с.ш.,157°з.д.).





Расовая структура населения (%)



Критерии оценивания. За правильный ответ – 0,5 баллов. Всего 8 баллов.